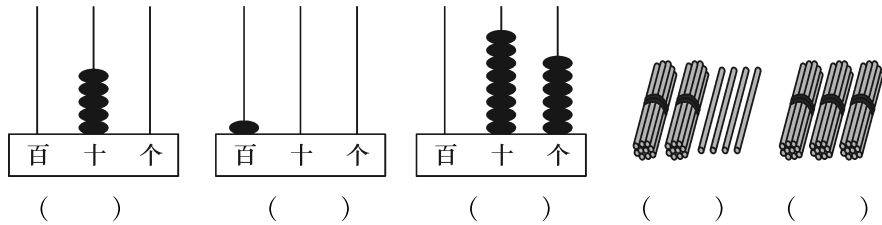



第二单元评估检测题(A卷)

(时间:60 分钟 满分:100 分)

一、看图写数,并按一定的顺序排列(8分)



二、美丽的孔雀会填数(12 分)



三、我会填(每空 1 分,共 30 分)

1. 一个两位数个位的数是3,十位的数是5,这个数是()。
2. 47 里有()个十和()个一。
3. 100 里面有()个十。
4. 6 个十和6 个一是()。
5. 和 79 相邻的数是()和()。
6. 比 91 小,比 88 大的数是()和()。
7. 最大的两位数是(),最小的两位数是()。
8. 从大到小排列下面各数。
47 28 69 76 79 67
() > () > () > () > () > ()
9. 想一想,再填数。

27		29		31		33		35		37
50	55	60		70						

10. 比最小的三位数小2的数是()。

四、我会比一比(12分)

$93 \bigcirc 93 - 3$

$80 \bigcirc 85 - 3$

$100 \bigcirc 90 + 9$

$78 - 8 \bigcirc 80$

$41 + 8 \bigcirc 49$

$20 + 6 \bigcirc 30$

$5 + 50 \bigcirc 100$

$69 - 9 \bigcirc 70$

$53 - 3 \bigcirc 50$

$20 \bigcirc 22 - 2$

$3 + 70 \bigcirc 37$

$99 \bigcirc 99 - 9$

五、我是小法官(对的打“√”,错的打“×”)(5分)

1. 7个十和2个一是72。 ()

2. 七十二写作702。 ()

3. 最小的两位数10比最大的一位数9多2。 ()

4. 65和73之间有7个数。 ()

5. 两位数一定比一位数大。 ()

六、我来辨一辨,在适合的数字上打“√”(5分)

1. 我爸爸今年39岁,我妈妈的年龄和爸爸的年龄差不多,我妈妈今年可能是(45, 38, 32)岁。

2. 55接近于(40, 35, 60)。

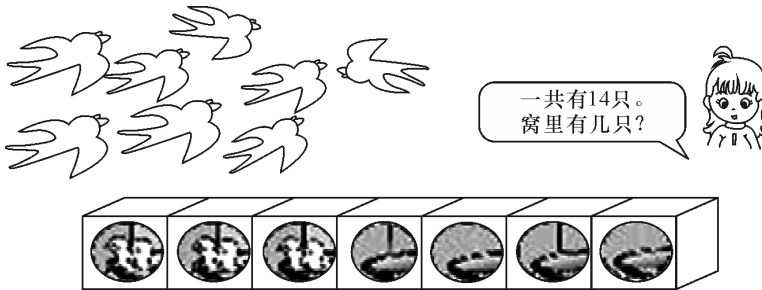
3. 80比(70, 90, 100)少一些。

4. 100比(30, 50, 90)多得多。

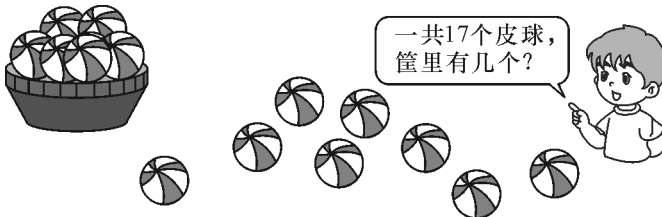
5. 65和(59, 44, 89)很接近。

七、生活中的数学(28分)

1.



2.



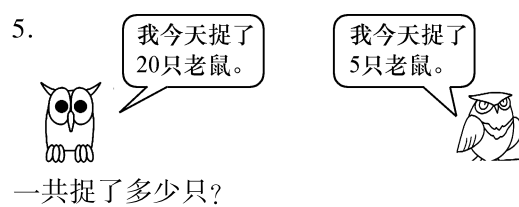
3.





4. 一共有 46 架飞机。



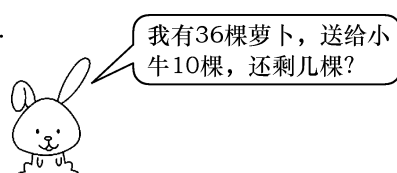
5.



6.  原来有 38 人, 下去 8 人。



7.



A 卷评估标准及参考答案

评估标准:

本单元重点认识 100 以内的数,要求学生学会数数,能够根据数序比较数的大小,并能够计算整十数的加减法及相应的加减一位数的运算。试卷的设计依托于教材中的习题,并联系学生的生活实际设计了填空、判断、计算、解决问题等不同的形式的习题,从不同方面针对本单元的知识点进行强化和训练,使学生在练习的同时深入认识 100 以内的数,强化学生的计算能力和解决问题的能力。本套试题在难易程度上基础题占 85%,稍拔高题占 15%,练习时只要学生认真读题并耐心解答,定能取得较好的成绩。

参考答案:

一、50 100 86 24 30 $24 < 30 < 50 < 86 < 100$

二、按竖排顺序 60 99 48 40 27 50 9 6 59 27 80 66

三、1.53 2.4 7 3.10 4.66 5.78 80 6.89 90 7.99 10 8.79 76 69
67 47 28 9.28 30 32 34 36 65 75 80 85 90 95 100 10.98

四、 $>$ $<$ $>$ $<$ $=$ $<$ $<$ $=$ $=$ $>$ $>$

五、(1) \checkmark (2) \times (3) \times (4) \checkmark (5) \checkmark

六、打“ \checkmark ”的数字为:38 60 90 30 59

七、 $1.14 - 8 = 6$ (只) $2.17 - 8 = 9$ (个) $3.30 + 9 = 39$ (只) $4.46 - 6 = 40$ (架)

$5.20 + 5 = 75$ $6.38 - 8 = 30$ $7.36 - 10 = 26$

重点讲评:

三、填空题。

第 6 题,比 91 小,比 88 大的数是多少,做这道题时只需按顺序写出由 88 到 91 的数就行了,为 88、89、90、91,所以比 91 小,比 88 大的数一眼就看出来了,为 89 和 90。在做其他类似的题目也是用相同的方法。

第 9 题,找规律填数,这类题要先找到规律。第一排填上的数字为 27、29、31、33、35、37,全部是单数,所以空格里就应该填双数,为 28、30、32、34、36;第二排起始的数字为 50、55、60,说明这一组数字是 5 个 5 个数的,所以空格中的数 5 个 5 个地数出来就可以了。

四、我会比一比。

这道题是以前的练习中经常出现的习题,所以学生做起来不会有难度,但也要细心地去做。做题时还是要按照先算出算式的得数,然后再进行比较的方法,如 $93 \bigcirc 93 - 3$ 中,就要先算出 $93 - 3 = 90$,然后 93 再和 90 比较, \bigcirc 里就得填“ $<$ ”。

五、我是小法官。

第 3 题,最小的两位数 10 比最大的一位数 9 多 2,到底对不对我们算一算就行了,列式计算为 $10 - 9 = 1$,而题中说的是 2,所以错误。

第 4 题,65 和 73 之间有 7 个数对不对,这也需要验证一下,我们也可以把 65 到 73 的数按顺序写出来,65、66、67、68、69、70、71、72、73,除去 65 和 73 以外还有 7 个数,所以是正确的。